
















Elevark 1: Træk fra og udregn fortjenesten

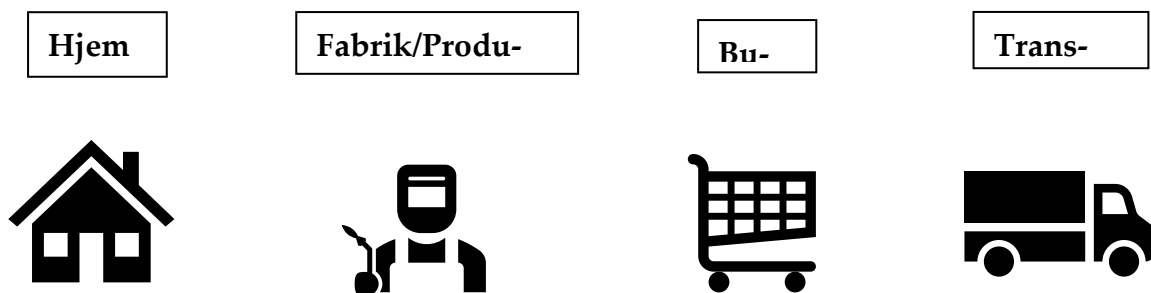
<p>1. Et æble?</p>  <p>Salgspris: <u> 5 </u> kr. Købspris: - <u> 2 </u> kr. = Fortjeneste: <u> </u> kr.</p>	<p>2. En appelsin?</p>  <p>Salgspris: <u> 6 </u> kr. Købspris: - <u> 4 </u> kr. = Fortjeneste: <u> </u> kr.</p>	<p>3. En ispind?</p>  <p>Salgspris: <u> 21 </u> kr. Købspris: - <u> 14 </u> kr. = Fortjeneste: <u> </u> kr.</p>
<p>4. En sodavand?</p>  <p>Salgspris: <u> 15 </u> kr. Købspris: - <u> 10 </u> kr. = Fortjeneste: <u> </u> kr.</p>	<p>5. En pose slik?</p>  <p>Salgspris: <u> 35 </u> kr. Købspris: - <u> 28 </u> kr. = Fortjeneste: <u> </u> kr.</p>	<p>6. En liter mælk?</p>  <p>Salgspris: <u> 8 </u> kr. Købspris: - <u> 7 </u> kr. = Fortjeneste: <u> </u> kr.</p>
<p>7. Et rugbrød?</p>  <p>Salgspris: <u> 24 </u> kr. Købspris: - <u> 16 </u> kr. = Fortjeneste: <u> </u> kr.</p>	<p>8. En flæskesteg?</p>  <p>Salgspris: <u> 60 </u> kr. Købspris: - <u> 40 </u> kr. = Fortjeneste: <u> </u> kr.</p>	<p>9. En sandwich?</p>  <p>Salgspris: <u> 35 </u> kr. Købspris: - <u> 20 </u> kr. = Fortjeneste: <u> </u> kr.</p>
<p>10. Et par bukser?</p>  <p>Salgspris: <u> 350 </u> kr. Købspris: - <u> 200 </u> kr. = Fortjeneste: <u> </u> kr.</p>	<p>11. En T-shirt?</p>  <p>Salgspris: <u> 120 </u> kr. Købspris: - <u> 80 </u> kr. = Fortjeneste: <u> </u> kr.</p>	<p>12. En kuffert?</p>  <p>Salgspris: <u> 300 </u> kr. Købspris: - <u> 100 </u> kr. = Fortjeneste: <u> </u> kr.</p>
<p>13. En lagkage?</p>  <p>Salgspris: <u> 80 </u> kr. Købspris: - <u> 30 </u> kr. = Fortjeneste: <u> </u> kr.</p>	<p>14. En vandkande?</p>  <p>Salgspris: <u> 60 </u> kr. Købspris: - <u> 30 </u> kr. = Fortjeneste: <u> </u> kr.</p>	<p>15. En kasket?</p>  <p>Salgspris: <u> 100 </u> kr. Købspris: - <u> 40 </u> kr. = Fortjeneste: <u> </u> kr.</p>

Elevark 2: Ord i butikken

Ord	Hvad betyder det?
Salgspris	
Svind	
Tilbud/rabat	
Mersalg	
Spørgsmål til butikken	

Elevark 3: Varens rejse

Tegn en pil fra hvert billede ned til strengen, så de kommer i den rigtige rækkefølge.



Start _____ Slut

Nu skal du regne ud, hvad den endelige pris bliver.

Din lærer vil give de tal, du skal bruge.

Du skal finde ud af, hvad prisen bliver, når varen har været gennem alle led.

Elevark 4: Butiksspillet

Spillet handler om, at du skal tjene penge i din butik.

Den, som har flest penge i sit regnskab, når alle spillere er i mål, vinder spillet.

Regler:

- Find noget, I kan bruge som spillebrik.
- Find papir og blyant til at holde regnskab.
- Slå med terningen om, hvem der starter.
- Spilleren, som starter, slår nu med terningen for at finde startbeløbet for alle spillere. Antallet af øjne ganges med 10. Hvis terningen viser 4, bliver startbeløbet 40 (4 x 10).
- Skift til at slå med terningen.
- Når en spiller lander på en lille stjerne, trækkes et kort fra bunken og læses højt.
- Når du lander på en stor stjerne, skal du trække et kort og slå igen.
- Spillet slutter, når alle spillere er i mål.
- I skal nu tjekke hinandens regnskab. Regn spilleren til højres regnskab igennem. Får du det samme?

<p>Du har fået en billig købspris og tjener derfor mere på din salgspris</p> <p>Du tjener 2 kr.</p>	<p>Der har været oversvømmelse i din butik.</p> <p>Du taber 4 kr.</p>
<p>Du holder en konkurrence, som trækker kunder til din butik.</p> <p>Slå med terningen. Du tjener det antal af øjne, som du slår.</p>	<p>Du holder udsalg og sælger mange af dine varer.</p> <p>Du tjener 7 kr.</p>
<p>Der er nogle, som har stjålet fra din butik.</p> <p>Du taber 10 kr.</p>	<p>Du har tilbud på jordbær, og dine kunder køber flere jordbær og fløde.</p> <p>Du tjener 5 kr.</p>
<p>Du giver 20 kr. i rabat på fredags-slik, så der kommer flere kunder om fredagen.</p> <p>Du tjener 8 kr.</p>	<p>Prisen for at producere din vare stiger.</p> <p>Du taber 3 kr.</p>

<p>Dine tomater er blevet for gamle, og du skal smide dem ud.</p> <p>Du taber 9 kr.</p>	<p>Det er jul, og der kommer mange kunder i butikken.</p> <p>Du tjener 30 kr.</p>
<p>Du sætter din salgspris op på vandmelon, fordi det er sommer.</p> <p>Du tjener 6 kr.</p>	<p>Benzin er blevet dyrere, så prisen for transport stiger.</p> <p>Du taber 4 kr.</p>
<p>Du holder en konkurrence, som giver en masse reklame.</p> <p>Slå med terningen. Du tjener det antal af øjne, som du slår.</p>	<p>Du skal betale huslejen for din butik.</p> <p>Du taber 9 kroner.</p>
<p>Du holder udsalg i din butik, og det strømmer til med kunder.</p> <p>Du tjener 13 kr.</p>	<p>Du taber nogle af dine varer, som går i stykker.</p> <p>Du taber 10 kr.</p>

<p>Du holder sommerudsalg.</p> <p>Du tjener 10 kr.</p>	<p>Prisen falder på benzin, så transport bliver billigere.</p> <p>Du tjener 5 kr.</p>
<p>Din butiksrude går i stykker.</p> <p>Du taber 8 kr.</p>	<p>Du får rabat på din købspris.</p> <p>Du tjener 17 kr.</p>

