































Elevark 1: Hvad koster det?

<p>1. Et æble?</p>  <p>Min pris: _____ kr. Vores pris: _____ kr. Klassens pris: _____ kr.</p>	<p>2. En appelsin?</p>  <p>Min pris: _____ kr. Vores pris: _____ kr. Klassens pris: _____ kr.</p>	<p>3. En ispind?</p>  <p>Min pris: _____ kr. Vores pris: _____ kr. Klassens pris: _____ kr.</p>
<p>4. En sodavand?</p>  <p>Min pris: _____ kr. Vores pris: _____ kr. Klassens pris: _____ kr.</p>	<p>5. En pose slik?</p>  <p>Min pris: _____ kr. Vores pris: _____ kr. Klassens pris: _____ kr.</p>	<p>6. En liter mælk?</p>  <p>Min pris: _____ kr. Vores pris: _____ kr. Klassens pris: _____ kr.</p>
<p>7. Et rugbrød?</p>  <p>Min pris: _____ kr. Vores pris: _____ kr. Klassens pris: _____ kr.</p>	<p>8. En flæskesteg?</p>  <p>Min pris: _____ kr. Vores pris: _____ kr. Klassens pris: _____ kr.</p>	<p>9. En sandwich?</p>  <p>Min pris: _____ kr. Vores pris: _____ kr. Klassens pris: _____ kr.</p>
<p>10. Et par bukser?</p>  <p>Min pris: _____ kr. Vores pris: _____ kr. Klassens pris: _____ kr.</p>	<p>11. En T-shirt?</p>  <p>Min pris: _____ kr. Vores pris: _____ kr. Klassens pris: _____ kr.</p>	<p>12. En kuffert?</p>  <p>Min pris: _____ kr. Vores pris: _____ kr. Klassens pris: _____ kr.</p>
<p>13. En lagkage?</p>  <p>Min pris: _____ kr. Vores pris: _____ kr. Klassens pris: _____ kr.</p>	<p>14. En vandkande?</p>  <p>Min pris: _____ kr. Vores pris: _____ kr. Klassens pris: _____ kr.</p>	<p>15. En kasket?</p>  <p>Min pris: _____ kr. Vores pris: _____ kr. Klassens pris: _____ kr.</p>

Eleverk 2: Leksikon

Ord	Hvad betyder det?
Købspris og salgspris	
Svind	
Tilbud/rabat	
Mersalg	
Kampagne	
Konkurrence	

Elevark 3: Priser og fortjenester

<p>1. Et æble?</p>  <p>Salgspris: _____ kr. Købspris: _____ kr. = Fortjeneste: <u>3</u> kr.</p>	<p>2. En appelsin?</p>  <p>Salgspris: _____ kr. Købspris: _____ kr. = Fortjeneste: <u>2</u> kr.</p>	<p>3. En isspind?</p>  <p>Salgspris: _____ kr. Købspris: - _____ kr. = Fortjeneste: <u>4</u> kr.</p>
<p>4. En sodavand?</p>  <p>Salgspris: _____ kr. Købspris: - _____ kr. = Fortjeneste: <u>5</u> kr.</p>	<p>5. En pose slik?</p>  <p>Salgspris: _____ kr. Købspris: - _____ kr. = Fortjeneste: <u>7</u> kr.</p>	<p>6. En liter mælk?</p>  <p>Salgspris: _____ kr. Købspris: - _____ kr. = Fortjeneste: <u>1</u> kr.</p>
<p>7. Et rugbrød?</p>  <p>Salgspris: _____ kr. Købspris: - _____ kr. = Fortjeneste: <u>8</u> kr.</p>	<p>8. En flæskesteg?</p>  <p>Salgspris: _____ kr. Købspris: _____ kr. = Fortjeneste: <u>20</u> kr.</p>	<p>9. En sandwich?</p>  <p>Salgspris: _____ kr. Købspris: - _____ kr. = Fortjeneste: <u>15</u> kr.</p>
<p>10. Et par bukser?</p>  <p>Salgspris: _____ kr. Købspris: - _____ kr. = Fortjeneste: <u>150</u> kr.</p>	<p>11. En T-shirt?</p>  <p>Salgspris: _____ kr. Købspris: - _____ kr. = Fortjeneste: <u>40</u> kr.</p>	<p>12. En kuffert?</p>  <p>Salgspris: _____ kr. Købspris: - _____ kr. = Fortjeneste: <u>200</u> kr.</p>
<p>13. En lagkage?</p>  <p>Salgspris: _____ kr. Købspris: - _____ kr. = Fortjeneste: <u>50</u> kr.</p>	<p>14. En vandkande?</p>  <p>Salgspris: _____ kr. Købspris: - _____ kr. = Fortjeneste: <u>30</u> kr.</p>	<p>15. En kasket?</p>  <p>Salgspris: _____ kr. Købspris: - _____ kr. = Fortjeneste: <u>60</u> kr.</p>

Elevark 4: Købmand Larsens tilbud

Købmand Larsen er en lille selvstændig købmand i en mellemstor by. Hans kunder er unge, børnefamilier og ældre – alle handler hos købmand Larsen, når de lige står og mangler noget.

For 3 måneder siden købte købmand Larsen et stort parti flødeboller. Han købte 2 paller med i alt 300 æsker, hvor der er 6 flødeboller i.

Købmand Larsen betalte 22,5 kr. pr. æske.

- Hvad var købmand Larsens købspris for de 300 æsker?

Efter 3 måneder har købmand Larsen solgt 175 æsker til en salgspris af 25 kr.

- Hvor meget har købmand Larsen solgt for?

Flødebollerne er lige ved at ramme deres udløbsdato, så købmand Larsen sætter prisen ned med 40 % pr. æske.

- Hvad bliver den nye salgspris pr. æske?

Han får solgt resten af æskerne til den nye salgspris.

- Hvor mange penge får købmand Larsen ind på salget af resten af æskerne?
- Ender købmand Larsen med at have tabt eller tjent på sit samlede salg af de 300 æsker?

Folk i byen elsker flødeboller og strømmer til butikken. Købmand Larsen vælger derfor at have et andet tilbud i samme periode. Han har tidligere købt 100 flasker god rødvin til en meget billig købspris. Han betalte i alt 6000 kr. for de 100 flasker. Han vælger nu at sætte dem på tilbud til 2 flasker for 150,- og får solgt de allesammen.

- Hvor meget bliver købmand Larsens fortjeneste på vinen?
- Hvad bliver købmand Larsens samlede fortjeneste på salget af flødeboller og vin?

Elevark 5: Oles tilbudsjagt

Ole skal på tur med sin spejdergruppe, og han har fået ansvaret for at købe ind til 40 toast, som skal ristes over bål på turen. Han skal købe tre forskellige ting: Toastbrød, skinke og ost. De skal være samlet inden turen med to stykker toast, et stykke skinke og en skive ost pr. toast.

Inden Ole skal ud at købe ind, kigger han efter tilbud på de tre ting i tre forskellige butikker.

Den lokale købmand:	Lille supermarked:	Stort supermarked:
Toastbrød m. 12 skiver 8 kr.	Toastbrød m. 20 skiver 12 kr.	Toastbrød m. 20 skiver 10 kr.
1 pk skinke m. 10 skiver 14 kr.	1 pk skinke m. 15 skiver 14 kr.	1 pk skinke m. 40 skiver TILBUD: 20 kr.
1 pk med 10 skiver ost 20 kr.	1 pk med 20 skiver ost 35 kr. RABAT v. køb af to pakker. Pris 50	1 pk med 15 skiver ost 20 kr.

Opgaver:

- Opstil tre forskellige regnskab for, hvor meget det vil koste for Ole at købe ind i de tre forskellige butikker. Hvor er det dyrest og billigst for Ole at handle?
- Hvor meget mad får Ole i overskud ved køb i de tre forskellige butikker?
- Kunne Ole spare penge ved at dele sit indkøb over flere butikker? Hvordan skulle han kombinere sine indkøb?

Ole har kun tid til at handle ét sted og transporttiden og transportprisen til de tre butikker er:

- Den lokale købmand – Ole kan gå derhen, så det er gratis, og det vil tage ham 20 min. alt.
- Lille supermarked – Ole er nødt til at tage bussen. Det vil koste ham 22 kr., og det vil tage ham 1 time i alt.
- Stort supermarked – Oles far har tilbudt at køre ham i bil. Det vil koste 40 kr. i benzin, og det vil tage ham 1,5 time i alt.
- Hvor vil I råde Ole til at købe ind og hvorfor?

Elevark 6: Forberedelse til besøg

Vi skal på besøg i en butik i nærheden af skolen.

I skal lave spørgsmål, til en der arbejder i butikken. I kan stille spørgsmål til de ord, I har i jeres leksikon, eller I kan også stille spørgsmål til personen i butikken om hendes/hans arbejde og uddannelse.

Skriv mindst 3 spørgsmål:

Under besøget skal I tage billeder og noter, så I skal udfylde listen over, hvem der har de forskellige opgaver under besøget:

- Hvem skal have kamera eller mobiltelefon med til at tage billeder? _____
- Hvem skal tage papir og blyanter med? _____
- Hvem tager listen med spørgsmål med? _____
- Hvem tager notater? _____
- Hvem tager billeder? _____
- Hvem stiller hvilke spørgsmål? _____

Elevark 7: På besøg i butikken

I butikken skal I møde en, der arbejder der. I bliver vist rundt og skal stille jeres gruppes spørgsmål. Det er vigtigt, at I husker, at I er gæster i butikken. Der er også kunder i butikken, og de skal have fred. I skal derfor gå roligt, tale stille og tage hensyn til andre i butikken.

Opgave:


Find eksempler på følgende ord i butikken.

Begreb:	Hvilke varer? Hvad koster de? Hvor meget sparer man?	Fik I taget billede? (sæt kryds)
Tilbud/rabat		
Tilbud/rabat		
Tilbud/rabat		
Kampagne		
Konkurrence		

Elevark 8: Elevpræsentationer

Gruppearbejde: I skal nu lave en præsentation med jeres billeder fra butikken.

- Sæt 1 billede ind på hver af jeres ark.
- Forklar, hvad produktet er, og hvad tilbuddet/rabatten/kampagnen/konkurrencen går ud på.
- Hvor meget kan man som kunder spare ved at benytte tilbuddet/rabatten?
- Hvorfor tror I, at butikken har valgt at have dette produkt på tilbud/som kampagne?



Tekst:

Elevark 9: Butiksspillet

Spillet handler om, at du skal tjene penge i din butik.

Den, som har flest penge i sit regnskab, når alle spillere er i mål, vinder spillet.

Regler:

- Slå med terningen om, hvem der starter.
- Spilleren, som starter, slår nu med terningen for at finde startbeløbet for alle spillere. Antallet af øjne ganges med 1000. Hvis terningen viser 4, bliver startbeløbet 40 (4 x 1000).
- Skift til at slå med terningen.
- Når en spiller lander på en lille stjerne, trækkes et kort fra bunken og læses højt.
- Når du lander på en stor stjerne, skal du trække et kort og slå igen.
- Spillet slutter, når alle spillere er i mål.
- I skal nu tjekke hinandens regnskab. Regn spilleren til højres regnskab igennem. Får du det samme?

Dette skal I bruge:

Noget, I kan bruge som spillebrikker

Papir og blyant

Terning

<p>Du har fået en billig købspris og tjener derfor mere på din salgspris</p> <p>Du tjener 2500 kr.</p>	<p>Der har været oversvømmelse i din butik.</p> <p>Du taber 8300 kr.</p>
<p>Du holder en konkurrence, som trækker kunder til din butik.</p> <p>Slå med terningen. Du tjener det antal af øjne, som du slår x 1000.</p>	<p>Du holder udsalg og sælger mange af dine varer.</p> <p>Du tjener 7700 kr.</p>
<p>Der er nogle, som har stjålet fra din butik.</p> <p>Du taber 5900 kr.</p>	<p>Du har tilbud på jordbær, og dine kunder køber flere jordbær og fløde.</p> <p>Du tjener 5400 kr.</p>
<p>Du giver 20 kr. i rabat på fredagsslik, så der kommer flere kunder om fredagen.</p> <p>Du tjener 8600 kr.</p>	<p>Prisen for at producere din vare stiger.</p> <p>Du taber 3100 kr.</p>

<p>Dine tomater er blevet for gamle, og du skal smide dem ud.</p> <p>Du taber 1700 kr.</p>	<p>Det er jul, og der kommer mange kunder i butikken.</p> <p>Du tjener 8800 kr.</p>
<p>Du sætter din salgspris op på vandmelon, fordi det er sommer.</p> <p>Du tjener 6300 kr.</p>	<p>Benzin er blevet dyrere, så prisen for transport stiger.</p> <p>Du taber 4200 kr.</p>
<p>Du holder en konkurrence, som giver en masse reklame.</p> <p>Slå med terningen. Du tjener det antal af øjne, som du slår x 1000.</p>	<p>Du skal betale huslejen for din butik.</p> <p>Du taber 9700 kroner.</p>
<p>Du holder udsalg i din butik, og det strømmer til med kunder.</p> <p>Du tjener 10.000 kr.</p>	<p>Du taber nogle af dine varer, som går i stykker.</p> <p>Du taber 7000 kr.</p>